


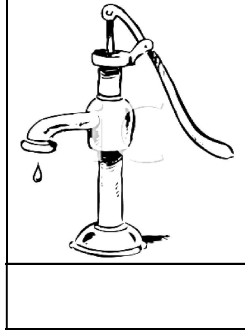

(iii) آپ اپنے علاقے میں پانی کے دو ذرائع بتائیں۔

(iv) ہمیں پانی کیسے استعمال کرنا چاہیے؟

(v) پانی حاصل کرنے کا سب سے اہم اور بڑا ذریعہ کون سا ہے؟

SECTION-III

سوال نمبر 1۔ (الف): نیچے دی گئی تصویروں کو پہچانیں اور ان کے نام لکھیں۔



(ب): دیے گئے الفاظ کی مدد سے خالی جگہ پُر کریں۔

ریگستان	جان دار	برف	دو
---------	---------	-----	----

(i) پانی کے بغیر زندہ نہیں رہ سکتے۔

(ii) گلشیر اور پہاڑوں سے پکھل کر ندی نالوں اور تالابوں میں پانی کی صورت میں شامل ہو جاتی ہے۔

(iii) گھروں میں استعمال ہونے والا پانی ذرائع سے حاصل ہوتا ہے۔

(iv) میں پانی کی قلت ہو جاتی ہے۔

کل نمبر: 25 واقفیت عامہ (دوم) ٹیسٹ نمبر 6 وقت: 30 منٹ

تیسرا مہینا، پہلا ہفتہ، چھٹا دن

سلیبس: دُہرائی ٹیسٹ سلیبس (پہلا ہفتہ)

SECTION-I

سوال نمبر 1۔ (الف): درج ذیل میں سے درست جواب کے گرد دائرہ کائنات لگائیں۔

(الف)	اُبال کر	(ب)	چھان کر	(ج)	پانی میں نمک ملا کر	(د)	(الف) اور (ب) دونوں
-------	----------	-----	---------	-----	---------------------	-----	---------------------

(ii) پانی کے قدرتی ذرائع ہیں:

(الف)	دو	(ب)	تین	(ج)	چار	(د)	پانچ
-------	----	-----	-----	-----	-----	-----	------

(iii) مندرجہ میں سے پاکستان کے کس حصے میں پانی کی کمی ہو جاتی ہے؟

(الف)	بدین میں	(ب)	ملتان میں	(ج)	کلام میں	(د)	شیر پورہ میں
-------	----------	-----	-----------	-----	----------	-----	--------------

(iv) پانی حاصل کرنے کا بڑا زمین ذریعہ ہے:

(الف)	آبشار	(ب)	ندی	(ج)	ٹیوب ویل	(د)	جھیل
-------	-------	-----	-----	-----	----------	-----	------

(ب): کالم (الف) کو کالم (ب) سے ملائیں۔

کالم (الف)	کالم (ب)
تمام جان داروں کے لیے بہت اہم ہے	دورے
پانی کا استعمال کیا جاتا ہے	زمین کی تہ میں
پانی کا ذخیرہ موجود ہے	پانی
لوگوں کو پانی بھر کر لانا پڑتا ہے	کھیتوں کو سیراب کرنے کے لیے

SECTION-II

سوال نمبر 1: درج ذیل سوالات کے مختصر جواب لکھیں۔ (5x2=10)

(i) ہم صاف پانی کیوں استعمال کرتے ہیں؟

(ii) سطح زمین سے پانی کیسے حاصل ہوتا ہے؟